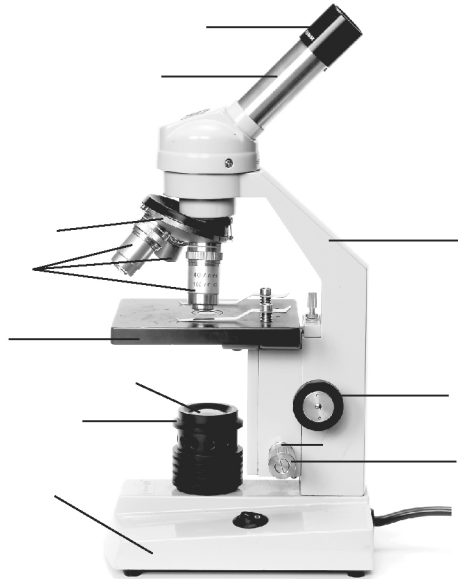
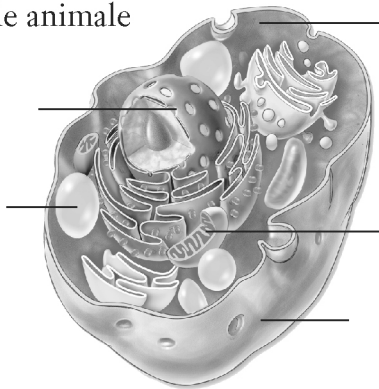


Objectif • Réviser les mots clés du chapitre 10.

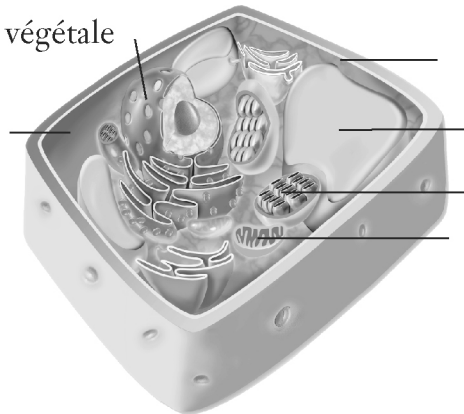
1. Identifie les éléments des schémas ci-dessous grâce aux mots clés du chapitre 10. Au besoin, trace une flèche qui relie le mot à la ligne appropriée.



Cellule animale



Cellule végétale



2. Quels sont les trois mots clés inutilisés? Écris une définition de chacun d'eux avec tes propres mots.
